

TRIP TRIP



ZIEMEĻLATGALĒ


03.05.
19.06.

- Atrodi paslēpušos objektus
- Nofotografē tos
- Atbildi uz 5 papildus uzdevumiem
- Iesūti foto ar atrastajiem objektiem
- 3 laimīgie ar lielāko punktu skaitu tiks pie pārsteigumu balvām

3



4



5



2



6



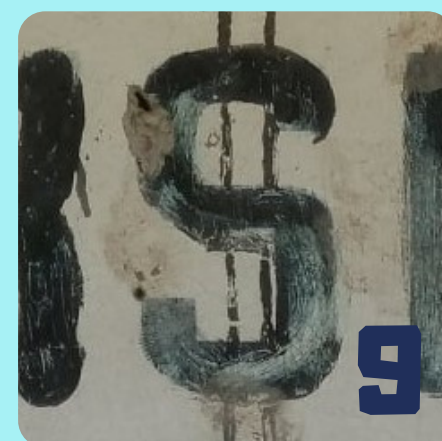
7



8



1



9



10



11



12



13



14



15



16



17



18



19



20



21



22



23



24



25



26



27



28



29



30



31



32



33



34



35



36



37



38



39



40



41


TRIP TRIP



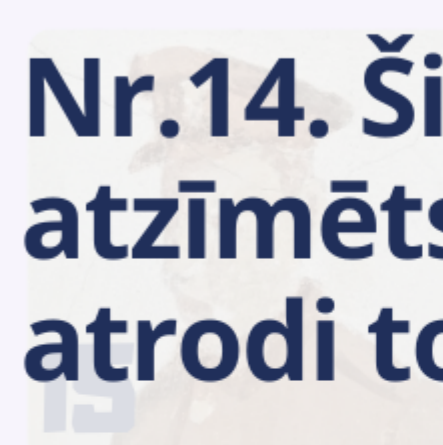
ZIEMEĻLATGALĒ

03.05.
19.06.

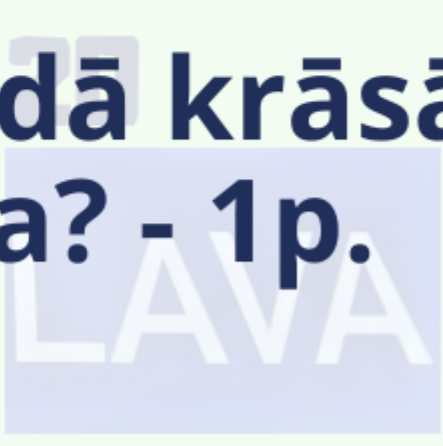
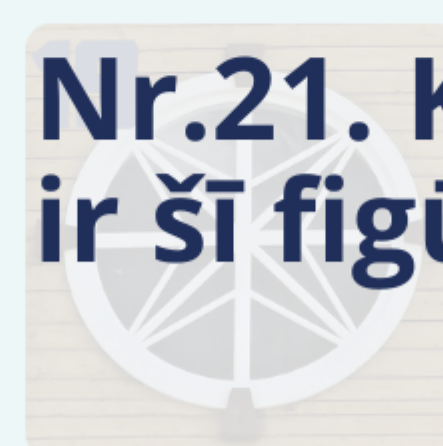
Papildus uzdevumi -




Nr.6. Kāds ir pēdējais cipars, kurš neparādās foto? - 1p.



Nr.14. Šis objekts nav atzīmēts digitālajā kartē, atrodi to un nobildējies - 4 p.



Nr.21. Kādā krāsā ir šī figūra? - 1p.



Nr.26. Kāds vārds šeit attēlots? -1 p.



Nr.39. Kas tas ir un kādā krāsā? -1p.

